

Questo è un elenco di giochi matematici per tenere la mente allenata.


## NON DEVI STAMPARE NIENTE

Ricopia sul quaderno i dati che ti servono per risolvere.

---

Nell'ultima pagina trovi una tabella, ricopiala sul quaderno e scrivi le soluzioni. Mi invii sul registro **solo la foto della tabella con le soluzioni entro mercoledì 15 aprile**





# QUINDICI

- Sistema tutti i numeri dall'1 al 9 nella griglia in modo che la somma in ogni riga, in ogni colonna e in diagonale sia sempre 15.
- Alcuni numeri sono stati già inseriti.
- I numeri non possono ripetersi.

# IL PONTICELLO

- Se cammini su un'asse col totale sbagliato, precipiti nel burrone.
- Quali sono le **assi da evitare** per attraversare il ponte senza pericolo?



# FAST FOOD

QUANTI  
CHEESBURGER SI  
POSSONO FARE CON  
GLI INGREDIENTI  
DELLA FIGURA SE  
SEGUI LA RICETTA  
ALLA LETTERA?

## RICETTA CHEESEBURGER (per porzione)

1 panino                      2 Foglie di lattuga  
1 hamburger                1 anello di cipolla  
3 fette di pomodoro      1 fetta di formaggio



2 confezioni di formaggio  
1 confezione = 10 fette



2 buste di panini  
1 busta = 6 panini



3 vaschette di hamburger  
1 vaschetta = 5 hamburger



2 cipolle  
1 cipolla = 8 anelli




4 pomodori  
1 pomodoro = 6 fette



1 cespo di lattuga  
1 cespo = 20 foglie

# LA PIRAMIDE

Ricordi le piramidi? Scrivi i numeri che mancano sulle pietre vuote. Ogni numero è la somma delle due pietre immediatamente sotto



# Sudoku di sei

La griglia è fatta di sei riquadri, ciascuno di sei celle. Riempi le celle vuote in modo che ogni riquadro, riga e colonna contenga tutti i numeri dall'1 al 6.



# COPPE GELATO

Sono arrivate le ultime ordinazioni per tre coppe gelato.

Una volta preparate cosa rimarrà per fare una coppa tutta per te?



## Ordinazione 1

1 pallina di gelato alla fragola; 1 di gelato alla menta; 2 di gelato al cioccolato; 2 bastoncini di cioccolato; 2 cialde; 5 stelle di zucchero

## Ordinazione 2


3 palline di gelato alla fragola; 4 ciliegine; 2 cialde; 10 stelle di zucchero.

## Ordinazione 3

2 palline di gelato alla menta;  
2 di gelato al cioccolato; 1 ciliegina; 4 bastoncini di cioccolato; 7 stelle di zucchero

# PALME DA COCCO

- Partendo dal numero in basso esegui tutti i calcoli lungo ciascun tronco. Il totale corrisponde a quanti gradini puoi salire sulla scala. Quale gruppo di noci di cocco raggiungerai?





Nella prossima pagina troverete la tabella da ricopiare sul quaderno



**Perché vi chiedo di non stampare:**

1. Perché è una consegna
2. Perché è un esercizio di scrittura
3. Perché è un esercizio di attenzione
4. Perché non state facendo esercizio di scrittura che facevate a scuola: il tempo a disposizione lo avete e copiare dieci righe al giorno è tutta salute per la vostra mente
5. Perché NON VOGLIO vedere fogli e consegne stampate appiccate sul quaderno

GIOCO	SOLUZIONE
QUINDICI	Numeri riga 1:..... Numeri riga 2:..... Numeri riga 3:.....
IL PONTICELLO	Le operazioni che danno il risultato sbagliato sono:
FAST FOOD	Si possono fare ..... cheeseburger
LA PIRAMIDE	Numeri della riga A: Numeri della riga B: Numeri della riga C: Numeri della riga D: Numeri della riga E: Numeri della riga F:
SUDOKU di 6	Numeri della riga A: Numeri della riga B: Numeri della riga C: Numeri della riga D: Numeri della riga E: Numeri della riga F:
COPPE GELATO	Per fare una coppa restano:.....
PALME DA COCCO	Le noci di cocco che raggiungi sono quelle con la lettera: .....

